



26 de noviembre de 2016

1er ejercicio, 2ª parte

- La coyuntura consta de 8 preguntas.
- Se dispone de **2 horas y 15 minutos** para responder a las cuestiones planteadas.
- Las respuestas deberán ser redactadas en las hojas autocopiativas que serán entregadas al efecto. En la parte superior de cada hoja deberán ser consignados el nombre y los apellidos. Las hojas deberán ser numeradas.
- El Tribunal no responderá a preguntas. En caso de duda, para garantizar la igualdad de oportunidades, cada opositor debe interpretar lo que está escrito.
- No se permite el uso de calculadora.
- Todos los dispositivos electrónicos (móviles, *smartwatches*, etc...) deberán permanecer apagados durante el desarrollo de la prueba encima de la mesa boca abajo.
- Finalizada la prueba, cada opositor deberá introducir las hojas de respuestas en un sobre que será entregado al efecto. El sobre debe ser cerrado y en la parte posterior deben indicarse claramente el nombre y los apellidos. El sobre será abierto delante del opositor el día que le corresponda realizar la lectura del dictamen de coyuntura.
- No será posible abandonar la sala del examen durante los primeros 30 minutos ni durante los últimos 30 minutos. Entre esos dos momentos, si algún opositor finalizase la coyuntura podrá hacer entrega de su hoja de respuestas al tribunal. El documento de preguntas permanecerá en la sala hasta la finalización de la prueba.
- Los opositores que agoten el tiempo disponible deberán esperar sentados a que se les recoja las hojas de respuestas.

Análisis de coyuntura

En el cuadro y gráficos adjuntos se facilita información macroeconómica, referida al periodo 2007-2016, sobre un determinado país. Atendiendo a dicha información, responda a las siguientes preguntas:

1. Evalúe el perfil cíclico de la economía de este país desde el inicio de la crisis financiera internacional hasta 2015.
2. ¿Cómo ha podido afectar la evolución del precio del petróleo a esta economía desde 2008?
3. Calcule la variación del coste laboral unitario de 2012 respecto al año anterior. Con la información disponible, analice la evolución de los costes laborales unitarios y su relación con la evolución de los salarios, suponiendo que la tasa de asalarización es constante e igual a 1 (2012-2015). ¿Qué puede deducirse en relación con la competitividad de esta economía?
4. ¿Cuáles son los principales desequilibrios de esta economía?
5. Comente la evolución de los principales determinantes de la demanda de exportaciones de bienes y servicios y su contribución al crecimiento de las exportaciones. Enumere otros posibles determinantes de la demanda de exportaciones. ¿Cree que la balanza de servicios es superavitaria?
6. Esta economía ha sufrido un shock en 2016, con efectos sobre el tipo de cambio y los índices de gestores de compras de los sectores de manufacturas y servicios (PMI, siglas en inglés). A la vista de estos gráficos, ¿cuál podría ser el impacto (positivo/negativo) de dicho shock en el crecimiento y en los principales componentes del PIB desde la óptica de la demanda, así como en el empleo y la inflación?
7. Analice el tono de la política económica (política fiscal y política monetaria) en el período 2008-2015.
8. ¿Cuál podría ser el dilema de política monetaria del Banco Central en 2016?

ESCENARIO MACROECONOMICO	2008	2009	2010	2011	2012	2013	2014	2015
PIB REAL Y COMPONENTES DE DEMANDA	-0,6	-4,3	1,9	1,5	1,3	1,9	3,1	2,2
(% variación anual salvo indicación en contrario)								
<i>Demanda nacional</i> ^{1,2}	-1,5	-4,6	2,7	0,1	2,0	2,6	3,4	2,5
Consumo privado	-0,7	-3,2	0,6	-0,5	1,7	1,6	2,2	2,5
Consumo público	2,1	1,1	0,2	0,2	1,7	0,3	2,3	1,5
Formación bruta de capital fijo	-6,5	-15,2	5,0	1,9	2,3	3,2	6,7	3,4
<i>Saldo exterior</i> ¹	0,9	0,3	-0,8	1,4	-0,7	-0,8	-0,4	-0,4
Exportaciones de bienes y servicios	1,1	-8,8	5,8	5,8	0,6	1,1	1,5	4,8
Importaciones de bienes y servicios	-1,9	-9,2	8,2	0,8	2,9	3,4	2,5	5,8
1): Contribución al crecimiento del PIB								
2): Incluida la contribución de la variación de existencias								
EMPLEO Y COSTES LABORALES								
(% variación anual salvo indicación en contrario)								
Empleo	0,9	-1,6	0,3	0,5	1,1	1,2	2,4	1,8
Tasa de paro ³	5,7	7,6	7,9	8,1	7,9	7,6	6,1	5,3
Remuneración/asalariado	-	-	-	-	1,7	2,1	0,4	1,1
Coste laboral unitario	-	-	-	-	-	1,4	-0,3	0,7
3): En porcentaje de la población activa								
SECTOR PUBLICO								
(% del PIB)								
Cap.(+)/Nec. (-) de financiación de las AA.PP	-4,9	-10,2	-9,6	-7,6	-8,3	-5,6	-5,6	-4,5
Deuda pública	50,2	64,5	76	81,6	85,1	86,2	88,1	89,1
(% del PIB potencial)								
Saldo estructural de las AA.PP.	-5,8	-8,8	-7,4	-6,0	-6,0	-4,2	-4,9	-3,9
SECTOR EXTERIOR								
(% del PIB)								
Saldo de la balanza por cuenta corriente	-3,5	-2,9	-2,7	-1,8	-3,3	-4,5	-5,1	-5,2
Saldo de la balanza de bienes	-	-	-	-	-6,4	-6,6	-6,8	-6,7
Exportaciones de combustibles	-	-	-	-	-	2,3	1,8	1,1
Importaciones de combustibles	-	-	-	-	-	2,8	2,4	1,5
Posición neta inversión Internacional	-	-	-8,2	-7,5	-20,9	-14,1	-23,7	-3,5
Índice 2010=100								
Tipo de cambio efectivo real ^{4,5}	-	-	-	-	106,8	105,8	113,7	121,8
4) Un aumento denota apreciación. 5) Basado en precios de consumo relativos								
PRECIOS								
(% variación anual salvo indicación en contrario)								
Índice de precios de consumo	3,6	2,2	3,3	4,5	2,8	2,6	1,5	0,0
PRO-MEMORIA								
(% variación anual salvo indicación en contrario)								
PIB mundial	3,0	-0,1	5,4	4,2	3,5	3,3	3,4	3,2
Mercados de exportación	-	-	-	-	4,5	-1,7	6,9	7,1
Índice de precios de la vivienda ⁶	-	-	-	-	0,0	3,0	8,0	6,5
6): En los nueve primeros meses de 2016 ha aumentado un 8%.								

GRAFICO 1

PRECIO PETROLEO

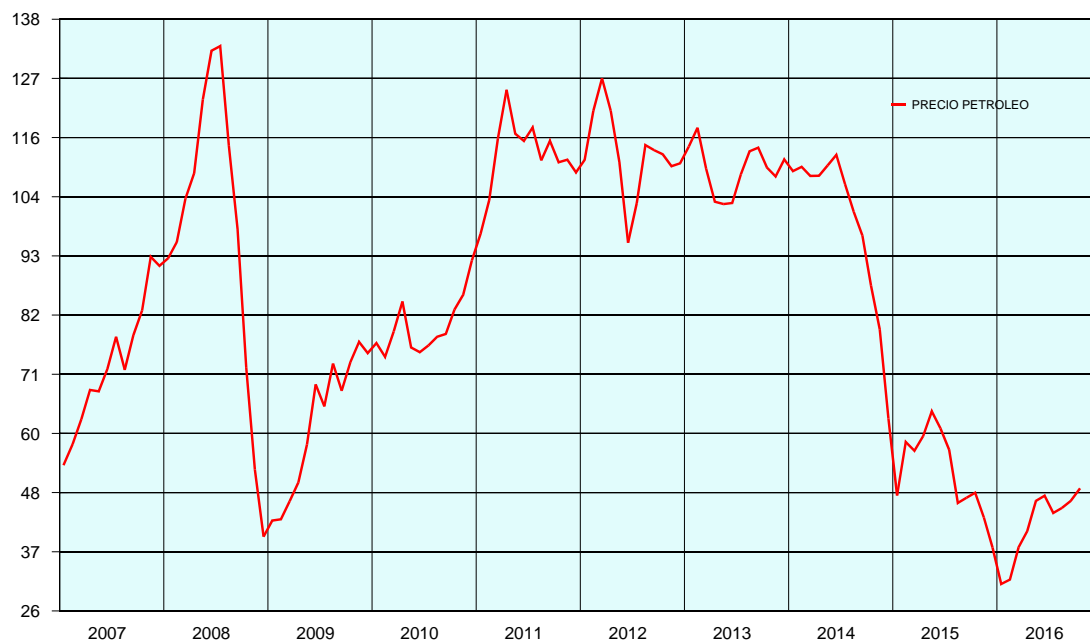


GRAFICO 2

TIPO DE INTERES DE INTERVENCION DEL BANCO CENTRAL

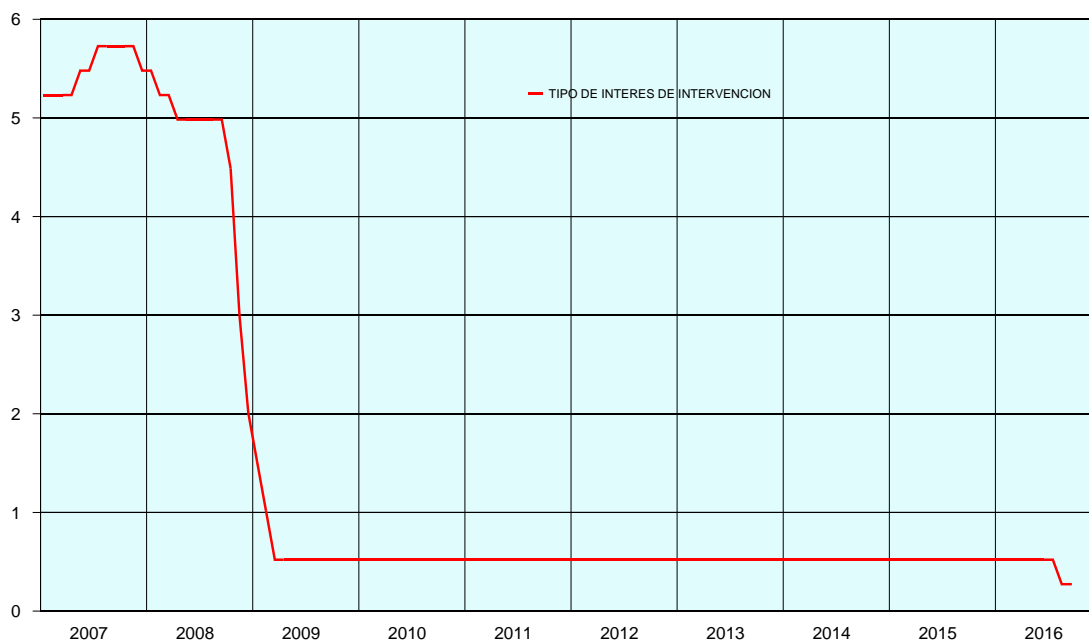
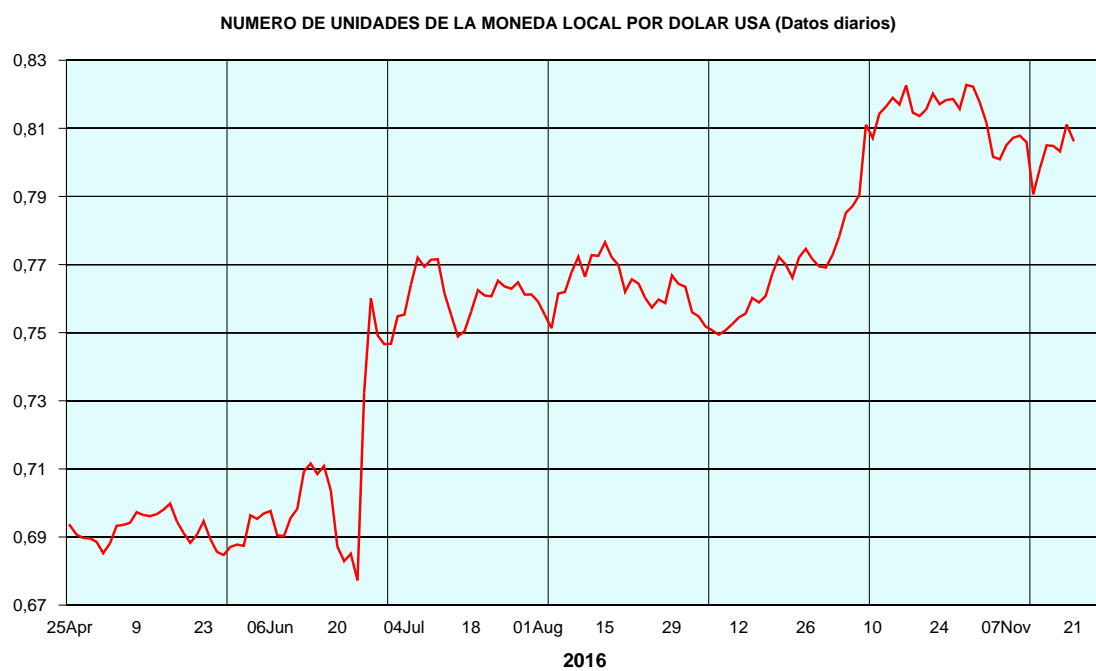


GRAFICO 3



GRAFICO

